

Терасинова Д

Школьный тур Всероссийской олимпиады школьников по технологии

7 класс (девочки)

Инструкция по выполнению работы

На выполнение работы по технологии теоретической части отводится 60 минут. Теоретический тур содержит 19 вопросов и одного творческого задания, которое оценивается в 6 баллов. При их выполнении надо выбрать один или несколько правильных ответов. За каждый правильно выполненный вопрос ставится 1 балл, если в одном вопросе несколько правильных вариантов ответа, и частично ответы не совпадают, тогда ставится 0 баллов. Результат суммируется. При выполнении работы нельзя пользоваться учебниками, рабочими тетрадями, справочниками, калькулятором. При необходимости можно пользоваться черновиком. Записи в черновике проверяться и оцениваться не будут. Советуем выполнять задания в том порядке, в котором они даны. Для экономии времени можно пропускать задание, которое не удаётся выполнить сразу, и переходить к следующему.

198

Кулинария

1. Физиология питания изучает (выберите правильные ответы из предложенных вариантов):

- а) сторонний образ жизни;
- б) рациональное питание;
- в) раздельное питание;
- г) режим питания;
- д) питательную ценность пищи;
- е) химический состав национальных блюд.

+

2. Питательная ценность овощей и фруктов (выберите правильный ответ):

- а) являются источником витаминов;
- б) содержат много клетчатки;
- в) имеют большое количество белка.

+

3. Основные питательные вещества, которые содержатся в пище – это (выберите правильные ответы из предложенных вариантов):

- а) крахмал;
- б) жирье;
- в) клетчатка;
- г) белки;
- д) углеводы;
- е) отруби.

+

4. Питательная ценность пищи рассчитывается в (выберите правильный ответ):

- а) в микрограммах;
- б) в граммах;
- в) калориях;
- г) в миллилитрах.

+

5. Чтобы сварить яйцо всмятку, сколько минут нужно его варить? (выберите правильный ответ):

- а) 5-6 минут;
- б) 3-4 минуты;
- в) 10 минут.

+

6. Какая ягода в России имеет статус «Царицы», благодаря большому количеству витамина С в своем питательном составе? (выберите один правильный ответ):

- а) черная смородина: +
 б) клюква:
 в) земляника:
 г) брусника.

7. Кухонная посуда классифицируется на группы. Распределите по группам весь перечень перечисленных кухонных принадлежностей: ложки, тарелки, кастрюли, разделочные доски, сковороды, дуршлаг, мясорубка, чайник, чашки, ножи, терка, соевник, ситейник, вилки, едло. Выберите названия и запишите в соответствующие колонки таблицы.

столовая посуда	кухонный инвентарь	столовые приборы	кухонные приспособления
тарелки чайная чашка соевник	кастрюли сковорода соейник	ложки вилки ножи	разделочные доски дуршлаг мясорубка терка сите

8. Есть определенные правила мытья посуды, составьте алгоритм правильной последовательности этого занятия: 1 д, 2 в, 3 е, 4 г, 5 з, 6 а.

- а) мою жирную посуду;
 б) мою чайные ложки;
 в) мою чайные чашки (кружка и блюдце);
 г) мою кастрюли;
 д) мою тарелки;
 е) мою вилки и ножи.

9. «Найдите в таблице среди чисел буквы. Составьте из них название блюда французского происхождения»

0	1	4	3	4	5	6	7	8	9	6	0
2	6	5	7	0	3	6	4	7	5	3	1
3	5	8	9	0	8	6	5	3	5	7	8
3	м	7	5	4	8	9	0	1	4	2	3
4	0	6	7	9	2	3	6	д	4	7	8
8	5	3	7	4	9	4	6	0	3	8	0
3	6	2	1	е	3	5	6	9	0	6	4
9	8	7	3	2	1	6	6	4	9	2	4
6	2	4	5	7	8	0	1	3	2	5	1
8	4	5	7	3	1	1	3	4	2	7	6
0	5	3	1	3	6	8	0	9	5	3	2

Запишите название блюда амед
 Отметьте обязательный компонент такого блюда?

- а) жирно-молочная смесь;
 б) жирный белок, вбитый с сахаром;
 в) фруктово-сахарная смесь.

г) масляно-сахарная смесь.

Материаловедение

10. Ширина ткани определяется (выберите правильный ответ):

- а) вдоль идущих нитей основы;
- б) по кромке;
- в) расстояние от кромки до кромки.

+
7

11. Все текстильные волокна делятся на две основные группы, назовите, как они называются и приведите несколько примеров в каждой группе.

Текстильные волокна

натуральные
хлопок
лен

химические
капрон
вискоза

+
+

12. Наиболее подходящими для изготовления ночной сорочки или пижамы являются ткани (выберите правильные ответы):

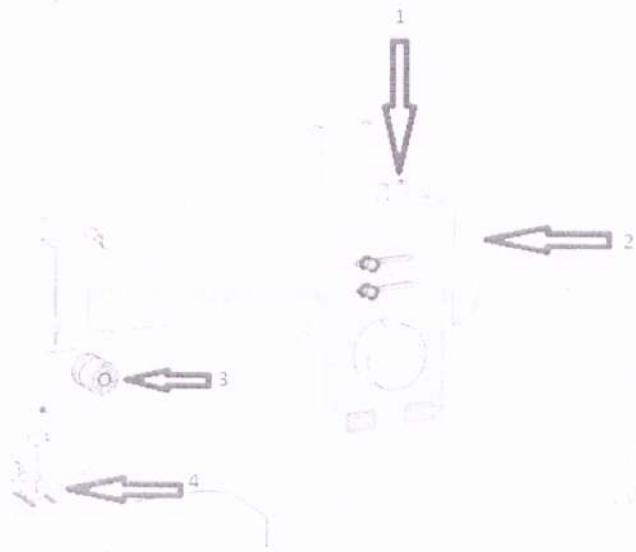
- а) шерстяные;
- б) льняные;
- в) хлопчатобумажные;
- г) натуральный шелк;
- д) искусственный шелк.

+
7 +

Машиноведение


13. Для изготовления швейных изделий используется швейная машина, назовите основные механизмы швейной машины, указанные стрелочками.

- 1.
- 2.
- 3.
- 4.



14. Конструкция машинной иглы имеет свои особенности, и состоит из семи основных конструктивных элементов, напишите название каждой части машинной иглы.

- 1. *капша*
- 2. *серьезно*
- 3. *острие*
- 4. *леска*
- 5. *длинный желобок*
- 6. *ушко*
- 7. *короткий желоб*



Ручные и машинные швы

15. Напишите названия ручных швов.

f
f



- 1. *шлевочный шов*
- 2. *шлевочный шов наездника*



3. косой срез

+

+

Конструирование и моделирование

16. Разгадайте и напишите зашифрованные профессии, которые имеют отношение к процессу изготовления одежды.

ДРЕМЬЛОЕ модельер

+

ОРОШЬТИ портной

+

ВЯШЕ швея

17. Правила снятия мерок. Выпишите нужное слово:

— Мерки снимают с левой стороны фигуры.

18. Дизайн интерьера.

Композиция интерьера включает следующие понятия: (выберите из предложенных вариантов, только те утверждения, которые являются правильными)

+

а) варианты размещения мебели;

+

б) стиль мебели и ее художественное оформление, формы;

+

в) цветовое решение;

+


г) экологичность выбранных материалов отделки;

+

д) способ освещения;

е) наличие зоны для отдыха.

19. Осветительные приборы имеют функциональное и эстетическое значение в интерьере. Все они имеют разные названия. Напишите названия светильников:



+

1. люстра



2. торшер

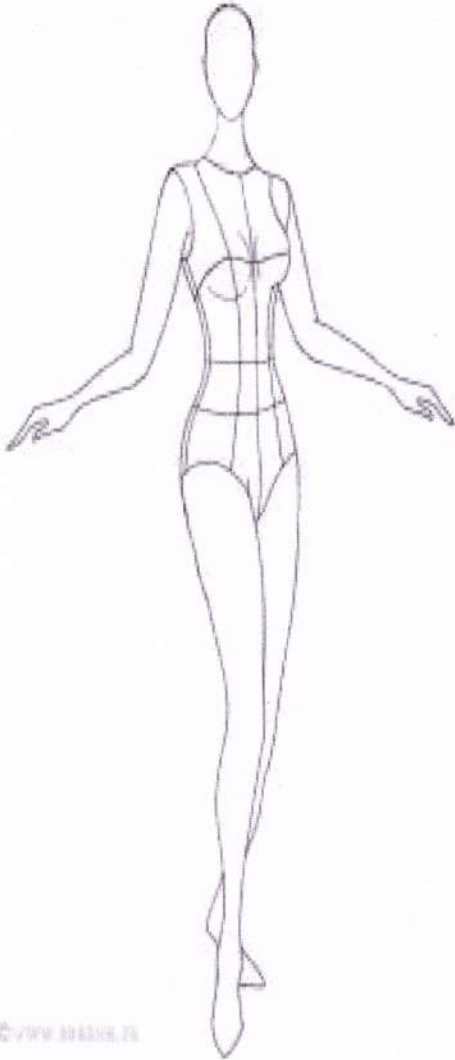


3. бра

+

20. Творческое задание

1. Нарисуйте эскиз ночной сорочки или пижамы.
2. Выполните описание модели.
3. Напишите не менее двух наименований ткани к выбранному эскизу.
4. Предложите способы отделки изделия, в зависимости от его назначения.

Модель юбки	Описание модели
 <p data-bbox="229 1541 373 1570">С. П. П. П. П. П.</p>	

1