

Школьный тур Всероссийской олимпиады школьников по обществознанию

9 класс.

1. Определение правильности или ошибочности утверждений («да» — «нет»).

- 1. Наличие лидера является обязательным признаком малой группы.
- 2. Сознание является высшей формой психики и свойственно только человеку.
- 3. В процессе социализации происходит становление личности, и приобретаются необходимые психологические качества.
- 4. Общение является первой формой отношения человека к окружающему миру.
- 5. Психологическая общность является признаком большой социальной группы.
- 6. В Российской Федерации государственная собственность имеет приоритет перед другими формами собственности.
- 7. Способности человека являются единственным условием успешного осуществления деятельности.
- 8. Межличностные отношения всегда связаны с соблюдением формальностей.
- 9. Нормы группы являются важнейшими механизмами, осуществляющими регулирование отношений в ней.
- 10. В Конституции РФ закреплены права граждан РФ, а обязанности граждан РФ закреплены в отраслевом законодательстве.

Ответ:

1 да	2 да	3 да	4 да	5 нет	6 нет	7 да	8 да	9 нет	10 нет
------	------	------	------	-------	-------	------	------	-------	--------

(10 баллов)

2. Множественный выбор.

2.1. Найдите характерные черты традиционной экономики. Выберите несколько вариантов ответа. . (12 баллов)

- 1. использование примитивных технологий
- 2. стихийный характер установления цен под влиянием спроса и предложения
- 3. натуральный обмен
- 4. ликвидация частной собственности на средства производства
- 5. свободная конкуренция, обеспечивающая беспрепятственный вход на рынок
- 6. наличие множества независимых производителей, самостоятельно решающих, какую продукцию производить, в каком количестве, посредством каких технологий и кому её реализовывать
- 7. широкое распространение ручного труда.

2.2. Найдите характерные черты буддизма. Выберите несколько вариантов ответа.

- 1. Самая ранняя по времени возникновения мировая религия.
- 2. Самая поздняя по времени возникновения мировая религия.
- 3. Мировая религия, священная книга которой называется «Типитака».
- 1. Мировая религия, два основных направления которой называются шиизм и суннизм.

2. Мировая религия, сущностью учения которой являются «четыре благородные истины».
1. Мировая религия, возникшая в Палестине.
2. Мировая религия, исповедующая триединство Бога.
3. Мировая религия, возникшая на Аравийском полуострове.
4. Мировая религия, наиболее распространенная в России.

2.3. Найдите в приведенном перечне источники права. Выберите несколько вариантов ответа

1. Нормативно-правовой акт
2. Приказ о назначении на должность
3. Юридический обычай
4. Нормативный договор
5. Приговор суда

2.4. Найдите характерные черты рыночной экономики. Выберите несколько вариантов ответа.

1. использование примитивных технологий и широкое распространение ручного труда
2. жёсткое централизованное планирование
3. стихийный характер установления цен под влиянием спроса и предложения
4. ликвидация частной собственности на средства производства
5. свободная конкуренция, обеспечивающая беспрепятственный вход на рынок
6. наличие множества независимых производителей, самостоятельно решающих, какую продукцию производить, в каком количестве, посредством каких технологий и кому ее реализовывать
7. сильная монополизация и бюрократизация экономики

<u>2.1</u> 1,3,7	<u>2.2</u> 1, 3, 5	<u>2.3</u> 1, 3, 4	<u>2.4</u> 3, 5, 6
------------------	--------------------	--------------------	--------------------

3. По какому принципу образованы ряды? (6 баллов)

3.1. Унитарное государство, конфедерация, федеративное государство -

формы государственного правления

3.2. Слесарь, академик, президент, лауреат Нобелевской премии -

достигаемой ступени

3.3. Осуждение, бойкот, похвальная грамота, почетное звание -

в санкциях

4. Установите соответствие между проступками и их видами: к каждой позиции, данной в первом столбце, подберите соответствующую позицию из второго столбца.

ПРОСТУПКИ

ВИДЫ ПРОСТУПКОВ

- 1) проезд на красный свет светофора
 - 2) клевета
 - 3) прогул рабочего дня
 - 4) нарушение авторского права
 - 5) нарушение правил пожарной безопасности
- Запишите в таблицу выбранные буквы

- А) гражданские проступки
- Б) административные проступки
- В) дисциплинарные проступки

1	Б	2	А	3	В	4	А	5	Б
---	---	---	---	---	---	---	---	---	---

(5 баллов)

5. Составьте схему, используя все предложенные понятия и термины. В схеме отразите их соотношение. (11 баллов)

1. Федеральное Собрание.
2. Правительство РФ
3. Конституционный суд РФ.
4. Государственная Дума
5. Законодательная власть
6. Конституционный суд РФ
7. Исполнительная власть
8. Совет Федерации
9. Судебная власть.
10. Ветви власти
11. Арбитражный суд РФ

6. Выделите лишнее в ряду и объясните свой выбор. (12 баллов)

6.1. Принцип разделения властей подразумевает разделение на исполнительную, законодательную, политическую, судебную власть.

6.2. Согласно Конституции РФ к политическим правам граждан относятся право на жилище, право участвовать в митингах, собраниях и демонстрациях, право избирать и быть избранным.

6.3. Власть, совесть, право, закон, налоги -

6.4 Авторитарный, унитарный, демократический, тоталитарный, либеральный;

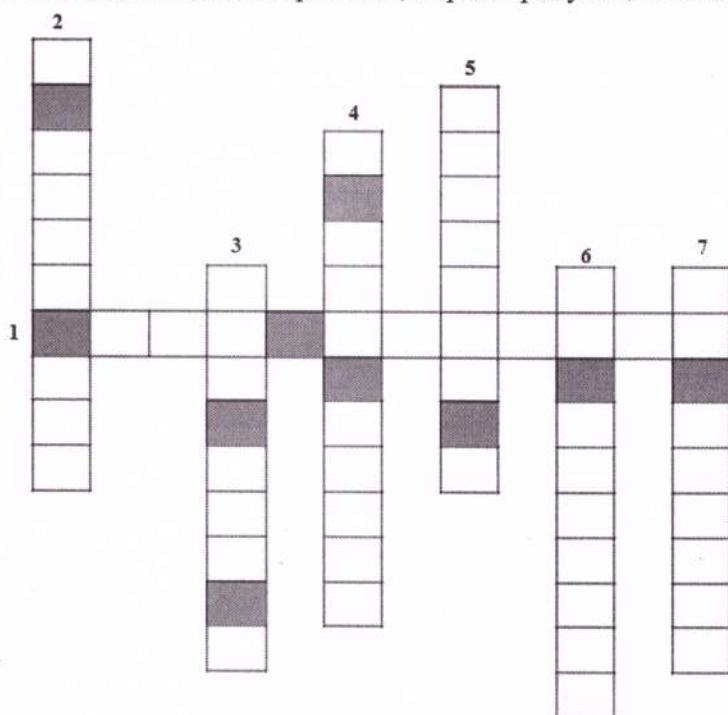
6.5. Класс, страта, каста, сословие, коллектив, работа;

6.6 Дефицит, план, директива, государственный план, рыночная экономика.

7. Обществоведческий кроссворд.

Каким понятиям соответствуют следующие определения? Полученные термины впиши в мини-кроссворд. Из букв в выделенных клетках составь термин

1. Тип политического режима, характеризующийся концентрацией власти в руках одного человека или властного органа, но при наличии её определенных ограничений.



2. Народовластие в государстве, политический режим, при котором установлены и осуществляются на практике способы и формы участия народа в управлении государством; закрепленные в законах свободы и равноправие граждан.

3. Наличие единства взглядов и сходных позиций, выражаемое в единстве действий.

4. Общественно-политическое течение, требующее усиления роли церкви в политической и духовной жизни общества.

5. Государство, составными частями которого являются относительно самостоятельные государственные образования (штаты, земли, республики, области и т. д.).

6. Философское и общественно-политическое течение, провозглашающее незыблемость прав и индивидуальных свобод человека.

7. Процедура привлечения к ответственности или отстранения от должностей высших должностных лиц государства.

Ответ: _____

Выберите то определение, которое относится к данному термину.

а) форма государственного правления, при которой высшие органы государственной власти избираются либо формируются представительными общенациональными учреждениями, а все граждане обладают политическими правами

б) совокупность умственных, эмоциональных, культурных особенностей, ценностных ориентаций и установок, присущих социальной или этнической группе, нации, народу, народности.

в) движение за отделение части государства и создание нового государственного

г) средства, которые вкладываются в определённый коммерческий процесс или финансовый инструмент с целью получения доходов.

Ответ: _____

(10 баллов)

8. Решите правовые задачи. Свой ответ аргументируйте.

8.1. Гражданин Л. потребовал в Администрации города предоставить ему данные исследований о концентрации вредных веществ в воздухе на территории района его проживания. В предоставлении этих данных ему было отказано.

Правомерен ли отказ Администрации города гражданину Л. в предоставлении запрашиваемых им сведений? Какие дальнейшие действия он может предпринять?

8.2. Гражданка А. оплатила 3 месяца обучения на курсах иностранных языков.

Через месяц преподаватель курсов попал в больницу и занятия были прекращены. Гражданка потребовала вернуть ей деньги, но получила отказ, т.к. большая часть курсов была проведена. Правомерен ли данный отказ? Что вы посоветуете делать дальше в данной ситуации?

(9 баллов)

9. Разгадайте ребусы и запишите ответ.

Укажите какие из разгаданных вами государств по форме правления являются монархиями. (15 баллов)

Ответ:

Бельгия, Великобритания, Норвегия, Швейцария, Швеция

a)



35
Br
79,904



3=K

4=H


б)



+B

-3-


в)



3=Г

+И

г)



XXI
01.01.2001 - 31.12.2100

30
Zn
1+500000
05.38

