

Часть 1. Задание с 1 по 10. Выберите один правильный ответ

(за каждый правильный ответ 1 балл)

1. Альтернативная стоимость – это:

А. Стоимость товара, выраженная в деньгах;

†  Б. Стоимость товара, выраженная в другом товаре;

В. Стоимость товара, выраженная в издержках производства.

2. Выберите пару товаров-заменителей:

†  А) Кофе и кофейный напиток

Б. Автомобильные покрышки и бензин

В. Книги и тетради

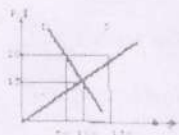
3. На современном этапе экономического развития основным измерителем экономики страны является: А) доход бюджета; Б) производительность труда;

†  В) размер дохода на душу населения;  Г) внутренний валовый продукт на душу населения.

4. Инновации привели к сокращению рабочих, занятых ручным трудом. Укажите вид данной безработицы.

†  А) циклическая; Б) фрикционная; В) скрытая;  Г) структурная.

5. На рисунке показаны кривые спроса и предложения. При цене \$20 на рынке возникает:

†  А) равновесие; Б) дефицит в 130 ед. товара;В) избыток в 130 ед. товара;  Г) избыток в 80 ед. товара.

6. Определите функцию денег по высказыванию:

«Единственное их занятие – торговля соболями, белками и прочими мехами, которые они продают покупателям, получают назначенную цену деньгами. А покупают в основном восточное монетное серебро и рабов».

†  А) обмена; Б) платежа; В) сбережения

7. Оплата труда по конечному результату:

А) повременная;  Б) сдельная; В) договорная; Г) премиальная.

8. К социальным трансфертам не относится:

А) стипендия, которую получает старший брат – студент МГУ;

†  Б) доход, который получает папа, давая частные уроки математики на дому;

В) бесплатное лекарство, которое получает дедушка в поликлинике;

Г) то, что указано в пунктах Б) и В).

9. Основной целью протекционизма является:

А) снижение уровня инфляции;

†  Б) защита отечественных производителей от иностранной конкуренции;

В) сбор средств для обеспечения внешнего государственного долга;

Г) ничто из вышеперечисленного не является целью протекционизма.

10. Если на рынке очень много фирм, выпускающих дифференцированный товар и вовлеченных в неценовую конкуренцию, то этот рынок называется:

†  А) совершенной конкуренцией;  Б) монополией;

В) олигополией;  Г) монополистической конкуренцией.

100.  
Часть 2. Задание с 11 по 20. Выберите один правильный ответ

(за каждый правильный ответ 2 балла)

1. Альтернативные издержки получения образования не включают в себя:

1. деньги на учебники

2. деньги на канцтовары

||  3) деньги на еду

4. зарплату, которую бы Вы получали, если бы Вам не надо было учиться в институте

5. плату за обучение

1. Закон убывающей предельной производительности фактора производства был математически доказан:

1. А. Смитом

2. К. Марксом

3. А. Маршаллом

4. Т. Мальтусом

||  5) не доказан до сих пор

1. Какая из перечисленных линий издержек никогда не принимает U-образной формы:

1. MC

2. ATC

3. AVC

4) AFC

5. AC

1. Линия на графике, показывающая наименьшие издержки производства на единицу продукции, с которыми может быть обеспечен любой объем производства при условии, что фирма имеет в своем распоряжении

достаточно времени для проведения всех необходимых изменений в размерах предприятия:

1. кривая безразличия
2. бюджетная линия потребителя
3. кривая Лоренца
- ④ 4. кривая долгосрочных средних издержек
5. линия предельных издержек

1. Доля изменения величины спроса на подешевевший товар, вызванная замещением этим товаром других благ, ставших сравнительно дороже:

1. эффект дохода
- ② 2. эффект замены
3. эффект масштаба
4. эффект масштаба отрицательный
5. эффект масштаба положительный

1. Весь доход, заработанный или полученный отдельными лицами, используется на потребление, сбережение, уплату налогов:

1. располагаемый доход
2. валовой внутренний продукт
3. валовой национальный продукт
- ④ 4. личный доход
5. чистый продукт

1. Если объём номинального ВВП и уровень цен повысились, то

1. реальный ВВП не изменился
2. реальный ВВП увеличился
3. реальный ВВП увеличился, но в меньшей степени, чем цены
- ④ 4. реальный ВВП сократился
5. эта информация не позволяет определить динамику реального ВВП

1. Налог на продажу ложится в большей мере на потребителя, если:

1. спрос неэластичен по цене
- ② 2. спрос абсолютно неэластичен по цене
3. спрос абсолютно эластичен по цене
4. спрос эластичен по цене
5. предложение неэластично

1. В условиях монополии:

1.  $MR = P$

2.  $MC = P$

3.  $MR < P$

4.  $MC = MR = P$

5.  $P = AR = MR$

1. Примером трансфертных платежей служит:

1. заработная плата

2. прибыль корпораций

3. государственные закупки

4. пособие по безработице

5. рента

126  
Часть 3. Задание с 21 по 30. Запишите предложение

(за каждый правильный ответ 2 балла)

21. Завершите фразу:

«Наличие в стране людей, которые способны и желают трудиться по найму при сложившемся уровне оплаты труда, но не могут найти работу по своей специальности или трудоустроиться вообще — это безработица»

22. Завершите фразу:

«Финансовое коммерческое учреждение, привлекающее денежные средства от юридических и физических лиц и размещающее их от своего имени на условиях возвратности, срочности и платности. Поддерживает устойчивость национальной единицы, называется банк»

23. Завершите фразу:

«Лицо, которое владеет и управляет собственным делом в надежде получить прибыль, человек, основывающий новое дело при помощи собственных или полученных в кредит денег — это предприниматель»

24. Завершите фразу:

«Обязательные платежи, взимаемые государством (центральными и местными органами власти) с физических и юридических лиц в государственные и местные бюджеты, называется налог»

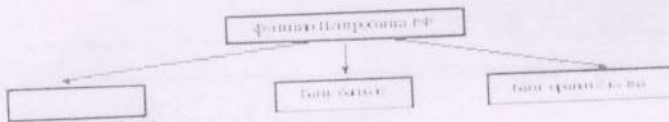
25. Вставьте пропущенные слова:

Монополия — организация рынка (какого?) труда, при которой на нём существует единственный покупатель

26. Вставьте пропущенные слова:

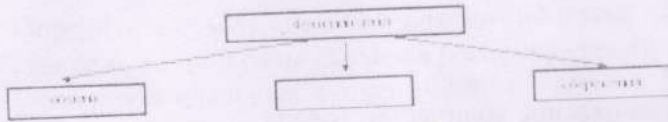
Монополия — организация рынка (какого?) товаров и услуг, при которой на нём существует единственный продавец

27. Напишите слово, пропущенное в схеме:



II Эмиссия денег

28. Напишите слово, пропущенное в схеме:



II ~~не надо~~   
 II утверждения или задачи

29. В приведенном ниже перечне отметьте активы фирмы:

Поставьте цифры правильных ответов

- 1) транспортные средства;     2) природные ресурсы;  
 3) рабочие;     4) оборудование;  
 5) сырьё для производства товаров;     6) офисная техника;  
 7) денежные средства на счету в банке;     8) информация.

30. В приведенном ниже перечне отметьте виды безработицы:

Поставьте цифры правильных ответов

- 1) сезонная;     2) экономическая;  
 3) циклическая;     4) структурная;  
 5) традиционная;     6) командная;  
 7) фрикционная;     8) партийная.

Часть 4. Задание с 31 по 40. Решите задачи

31. Задача № 1 (4 балла).

Хозяин платил торговому агенту 2/3 от выручки за продажу молочной продукции. На какую сумму должен агент продать молочные продукты хозяина, чтобы заработать 750 руб.?

4 
$$\frac{750}{2/3} = 1125 \text{ рублей}$$

32. Задача № 2 (4 балла).

Фирма «Белый пудель» платит своим рекламным агентам за рекламу породистых щенков 5% от стоимости щенков. На какую сумму надо найти заказы, чтобы заработать 1000 руб.?

4 
$$1000 \cdot 100 : 5 = 20000 \text{ руб.}$$