

Школьный тур Всероссийской олимпиады школьников по ОБЖ

6 класс.

Теоретические задания.

Задание 1. Дайте определение понятий:

а) Опасная (экстремальная) ситуация —

Это внезапно возникшая ситуация, угрожающая для человека.

б) Чрезвычайная ситуация -

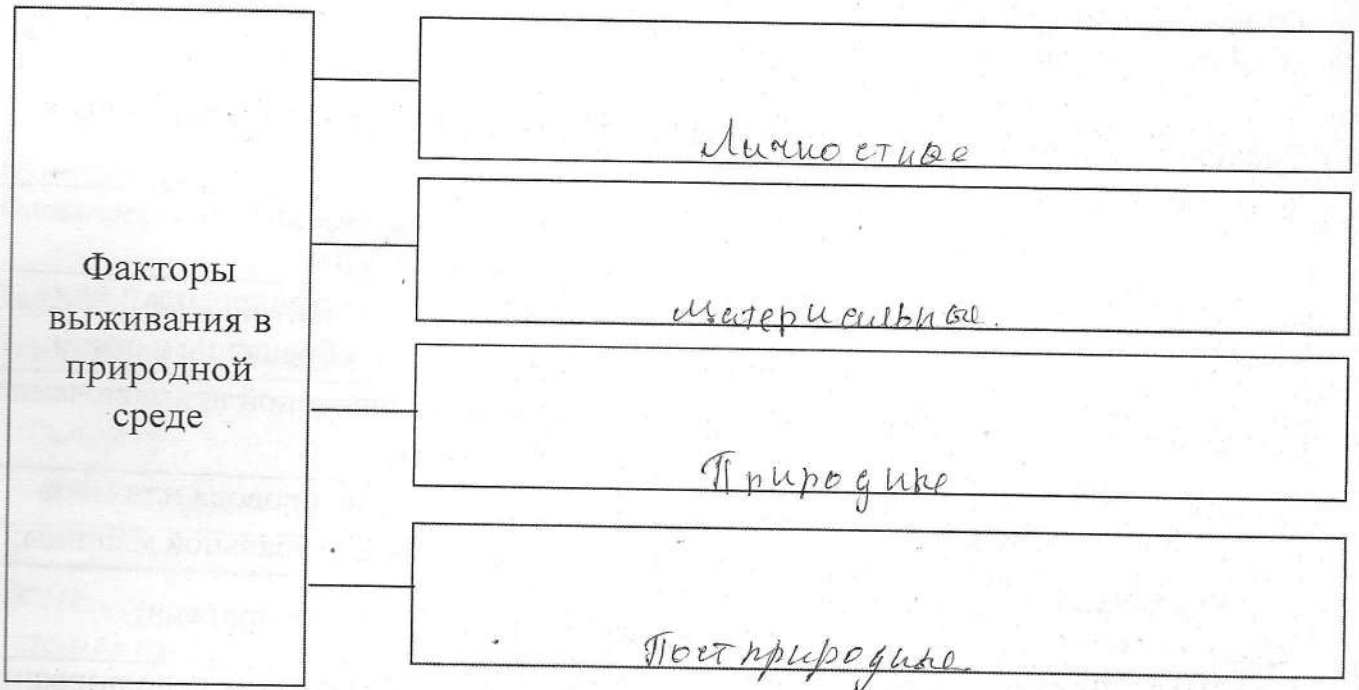
обстановка на определенной территории, возникшая в катастрофе

10

Оценочные баллы: максимально — 10 баллов,

Фактически набранные баллы за задание -


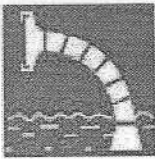



Задание 2. Заполните схему факторов выживания в природных условиях.



Оценочные баллы: максимально — 10 баллов,

Фактически набранные баллы за задание - 4

Задание 3. Впишите в **правых окошках** название (значение) изображенных знаков пожарной безопасности.

	Курение запрещено. 2		пожарный водоочистчик. 2
	Кнопка включения системы пожарной автоматики 2		направляющие к выходу 2
			Место сбора. 2

Оценочные баллы: максимально — 10 баллов,
Фактически набранные баллы за задание - 10

Задание 4. Заполните таблицу, указав какие опасные ситуации возможны в доме (квартире).

Значение опасной ситуации	Причины возникновения опасных ситуаций
Пожар	В результате неисправности электропроводки или электротехники, неосторожное обращение с огнем;
Взрыв газа Затопление (отравление).	В результате утечки газа из-за оставленной невыключенной плиты;
Отравление	В результате неисправности водопровода или из-за незакрытого крана, неисправной стиральной машины;
Отравление	Газом или химическими препаратами;
Ударом током	Из-за нарушения правил безопасности при использовании электроприборами и электрооборудованием;
Разрушение строительных конструкций.	В результате землетрясения или взрыва;

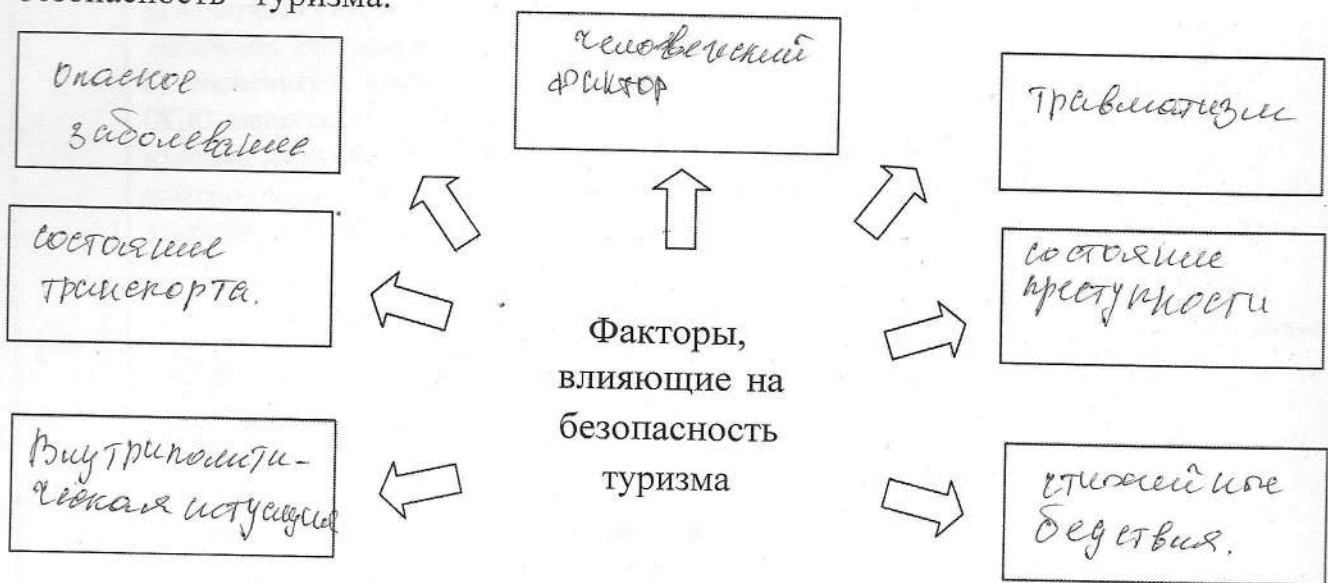
Оценочные баллы: максимально — 10 баллов,
Фактически набранные баллы за задание - 10

Задание 5. Для передачи информации спасателям, можно использовать и специальные знаки международной кодовой таблицы символов. Покажите стрелками соответствие значений представленных знаков.

- | | |
|---|---|
| <p>F</p> <p>□</p> <p>K₆</p> <p>↑</p> <p>△₂</p> <p>LL</p> <p>N</p> <p>Y₁₂</p> | <p>1 - Да</p> <p>2 - Все в порядке</p> <p>3 - не можем дальше двигаться</p> <p>4 - Необходима вода и еда</p> <p>5 - Укажите направление к спасению</p> <p>6 - Необходимы карта и компас</p> <p>7 - Следуем в этом направлении</p> <p>8 - Здесь можно безопасно совершить посадку</p> <p>9 - необходимы медикаменты</p> <p>10 - Нет</p> <p>11 - нужен врач</p> |
|---|---|

Оценочные баллы: максимально — 10 баллов;
Фактически набранные баллы за задание - 0

Задание 6. Заполните схему, вписав основные факторы, влияющие на безопасность туризма.



Оценочные баллы: максимально — 10 баллов,
Фактически набранные баллы за задание - 10

Задание 7. Опишите основные действия по оказанию первой помощи при вывихе.

1. _____

2. _____


3. _____

4. _____

Оценочные баллы: максимально— 10 баллов,
Фактически набранные баллы за задание - _____

<i>Баллы за задания теоретического блока</i>							
<i>№ задания</i>	1	2	3	4	5	6	7
<i>Кол-во баллов</i>							

ЗАДАНИЯ ТЕОРЕТИЧЕСКОГО ТУРА (Блок тестирования)

№ п/п	Тестовые задания	Макс. балл	Кол-во набранных баллов
1	2	3	4
Определите один правильный ответ			
1.	<p><i>Где должны двигаться организованные группы?</i></p> <p>а) По тротуару в два ряда; б) по краю проезжей части в два ряда; в) только по направлению движения транспортных средств по правой стороне не более чем по четыре человека в ряд.</p>	1	
2.	<p><i>Остановите направление движения на 200 градусов по азимуту.</i></p> <p>а) юго-восток. б) запад. в) юг. г) юго-запад.</p>	1	
3.	<p><i>Какое созвездие используется для определение сторон горизонта ночью?</i></p> <p>а) созвездие Южный крест. б) Млечный путь. в) созвездие Москва-Кассиопея. г) созвездие Большой медведицы.</p>	1	
4.	<p><i>Вы пришли домой, поставили полный чайник на газовую плиту и, закрыв дверь на кухню, пошли смотреть телевизор. Вдруг почувствовала запах газа. На улице сумерки. Какова очередность ваших дальнейших действий:</i></p> <p>а) включить свет и посмотреть, в чем причина утечки газа, открыть окно, поти к соседям, позвонить в дизайн службу; б) выключить телевизор, перекрыть газовый кран, открыть ОКНО, плотно закрыть дверь и окно. в) зайти на кухню, перекрыть газовый кран, открыть окно, плотно закрыть дверь в кухню, пойти к соседям и позвонить в аварийную службу.</p>	1	
5.	<div style="text-align: center;">  </div> <p><i>Этот знак называется:</i></p> <p>а) Дорога с полосой для велосипедистов; б) Пешеходная и велосипедная дорожка с разделением движения; в) Пешеходная и велосипедная дорожка с совмещенным движением.</p>	1	

6.	<p><i>Группа детей отправилась в туристический поход. С одним из участников похода произошёл несчастный случай — его укусила змея. Место укуса — задняя поверхность голени в средней трети. Что нельзя делать с потерпевшим?</i></p> <p>а) Обработать ранку раствором антисептика, б) Наложить давящую повязку на пострадавшую часть конечности, в) Наложить кровоостанавливающий жгут выше места укуса, г) Попросить пострадавшего после оказания первой помощи самостоятельно продолжить движение.</p>	1	
7.	<p><i>Какое из перечисленных средств относится к предохранительному средству спасения на воде?</i></p> <p>а) шары Сулова; б) конец Александра; в) спасательный жилет; г) любое из перечисленных средств.</p>	1	
8.	<p><i>Вы находитесь на льду водоёма. Что вы будете делать, если под Вами начал потрескивать лёд?</i></p> <p>а) постараюсь как можно быстрее добраться до любого ближайшего берега; б) осторожно поверну обратно и скользящими шагами вернусь к берегу по пройденному пути; в) медленно и осторожно поверну обратно, и быстро покину место по пройденному пути; г) постараюсь скользящими шагами добраться до любого ближайшего берега.</p>	1	
9	<p><i>Вы долго гуляли на улице зимой и катались на горке с друзьями. Очень сильно замерзли руки, кожа побледнела, появились признаки обморожения. Выберите действие, которое нельзя делать при обморожении:</i></p> <p>а) Обогреть кисти рук у открытого огня б) Укрыться теплым пледом; в) Выпить горячего чая; г) Сделать теплую ванночку для рук.</p>	1	
10	<p><i>Сколько часов необходимо спать школьнику 10-12 лет?</i></p> <p>а) 6-8 часов; б) 8-10 часов; в) 10-12 часов.</p>	1	

11	<p><i>Вам необходимо перебраться вброд через реку с быстрым течением. Каким из способов вы будете переводить ее в выбранном вами месте?</i></p> <p>а) вниз по течению; б) перпендикулярно течению реки; в) против течения; г) под углом 40 градусов к нему.</p>	1	
12	<p><i>В каком возрасте движение велосипедистов должно осуществляться только по тротуарам, пешеходным, велосипедным и велопешеходным дорожкам, а также в пределах пешеходных зон?</i></p> <p>а) От 3 до 6 лет; б) От 7 до 14 лет; в) От 14 до 16 лет</p>	1	
13	<p><i>Вы находитесь в ясу и зовете на помощь товарища. Как вы должны кричать или давать знать о себе, чтобы вас услышали с большого расстояния?</i></p> <p>а) громко, но низким тоном; б) пронзительно; в) свистеть с помощью пальцев.</p>	1	
14	<p><i>Какое количество суставов необходимо иммобилизовать при переломе бедра или плеча?</i></p> <p>а) два б) три в) четыре г) количество не имеет значения</p>	1	
15	<p><i>В каком случае пешеход может двигаться по проезжей части вместо тротуара или пешеходной дорожке?</i></p> <p>а) всегда, когда захочет; б) при переноске громоздких предметов; в) при ведении детской коляски.</p>	1	
16	<p><i>Максимальный пик работоспособности приходится на период времени:</i></p> <p>а) с 12:00 до 14:00; б) с 07:00 до 10:00; в) с 21:00 до 00:00; г) весь день</p>	1	
17	<p><i>При приготовлении пищи, на сковороде загорелся жир. Ваши действия?</i></p> <p>а) Залейте огонь водой.; б) Накинете на сковороду влажную тряпку.; в) Выключите газ. Сковороду плотно накроете крышкой.</p>	1	

18	<p>Ученик, пытаясь поправить здоровье и память перед экзаменами, съел целую коробку поливитаминов и попал в больницу. Доктор объяснил пострадавшему что это нарушение называется...</p> <p>а) гипервитаминоз б) гиповитаминоз в) авитаминоз г) бери-бери</p>	1	
19	<p>Как себя обезопасить, если тебя в лесу застала гроза?</p> <p>а) спрячусь под большое дерево б) спрячусь в кусты; в) выйду на поляну, где нет деревьев.</p>	1	
20	<p>Какую пищу необходимо чаще необходимо чаще употреблять, чтобы укрепить зубы?</p> <p>а) продукты содержащие животные и растительные жиры; б) мясные продукты; в) рыбу и морепродукты; г) яблоки, морковь, орехи, семечки подсолнуха, оливки, сыр.</p>	1	
21	<p>Какой из перечисленных способов обеззараживания воды является наиболее надежным? Выберите ответ:</p> <p>а) пропускание воды через активированный уголь; б) обеззараживание с помощью марганцовки; в) кипячение.</p>	1	
Определите все правильные ответы			
22	<p>Недостаток йода в организме можно восполнить, употребляя:</p> <p>а) хлебобулочные изделия; б) йодированную соль; в) молочные продукты; г) морепродукты.</p>	2	
23	<p>Мы ниже перечисленных объектов выберите те, которые могут являться линейными ориентирами:</p> <p>а) автомагистраль; б) горная река; в) движущийся автотранспорт и сельскохозяйственная техника; г) высоковольтная линия электропередач.</p>	2	
24	<p>От вилоченной электрогирлянды произошло возгорание искусственной елки высотой 1 м 80 см в комнате жилого дома. Выберите необходимые действия.</p> <p>а) Немедленно облить елку большим количеством воды; б) Обесточить электрогирлянду; в) Повалить елку на пол; г) Залить горящую елку большим количеством воды; д) Набросить на горящую елку плотную материю (плед с дивана, одеяло).</p>	3	

25	<p>Какие из представленных ниже правил оказания первой помощи при ранении глаз являются верными?</p> <p>а) промыть повреждённый глаз водой;</p> <p>б) нельзя промывать повреждённый глаз водой;</p> <p>в) наложить стерильную повязку на повреждённый глаз;</p> <p>г) наложить стерильную повязку на два глаза;</p> <p>д) закапать в повреждённый глаз антибактериальные капли.</p>	2	
Количество баллов		30	

*Оценочные баллы: максимально — 30 баллов,
фактически набранные баллы за Блок тестирования _____*

Общее количество баллов – 100.