

Школьный тур Всероссийской олимпиады школьников по ОБЖ

6 класс.

Теоретические задания.

Задание 1. Дайте определение понятий:

а) Опасная (экстремальная) ситуация —

это неблагоприятная обстановка в которой действуют вредные и опасные факторы

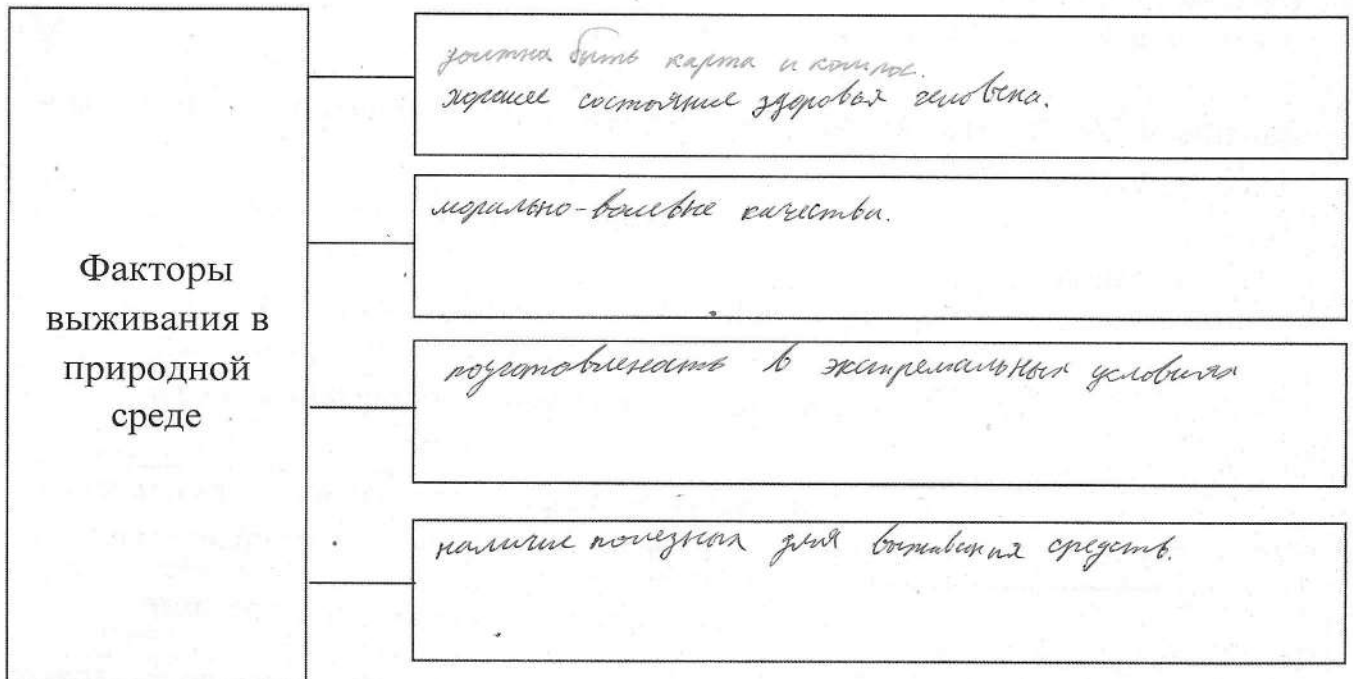
б) Чрезвычайная ситуация -

это обстановка на определенной территории сложившаяся в результате аварии, природного явления, катастрофы и т.д.

Оценочные баллы: максимально — 10 баллов,

Фактически набранные баллы за задание - 10


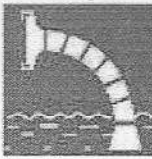



Задание 2. Заполните схему факторов выживания в природных условиях.



Оценочные баллы: максимально — 10 баллов,

Фактически набранные баллы за задание - 0

Задание 3. Впишите в **правых окошках** название (значение) изображенных знаков пожарной безопасности.

| | | | |
|---|-----------------|--|---|
|  | не курить. 2 |  | пожарный выход. 2 |
|  | |  | направление к выходу по лестнице вниз 2 |
| | |  | Точка (место) сбора. 2 |

Оценочные баллы: максимально — 10 баллов,
Фактически набранные баллы за задание - 8

Задание 4. Заполните таблицу, указав какие опасные ситуации возможны в доме (квартире).

| Значение опасной ситуации | Причины возникновения опасных ситуаций |
|---------------------------|--|
| | В результате неисправности электропроводки или электротехники, неосторожное обращение с огнем; |
| | В результате утечки газа из-за оставленной невыключенной плиты; |
| | В результате неисправности водопровода или из-за незакрытого крана, неисправной стиральной машины; |
| | Газом или химическими препаратами; |
| | Из-за нарушения правил безопасности при использовании электроприборами и электрооборудованием; |
| | В результате землетрясения или взрыва; |

Оценочные баллы: максимально — 10 баллов,
Фактически набранные баллы за задание - _____

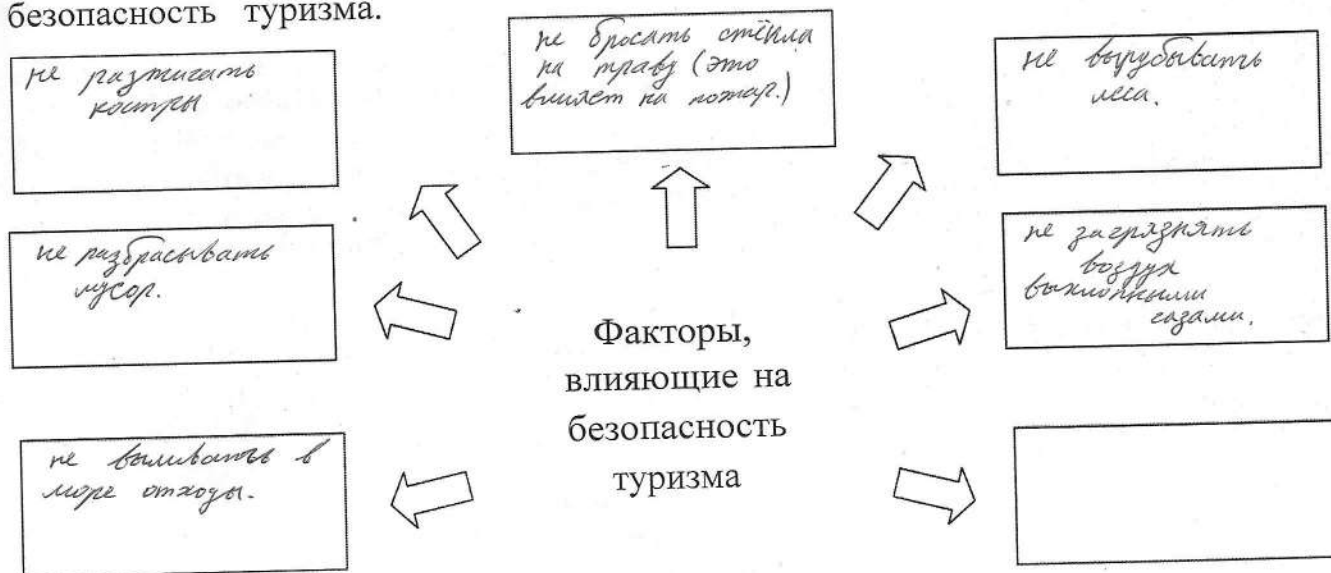
Задание 5. Для передачи информации спасателям, можно использовать и специальные знаки международной кодовой таблицы символов. Покажите стрелками соответствие значений представленных знаков.

F
□
K
↑
△
L
N
Y

- 1 - Да
- 2 - Все в порядке
- 3 - не можем дальше двигаться
- 4 - Необходима вода и еда
- 5 - Укажите направление к спасению
- 6 - Необходимы карта и компас
- 7 —Следуем в этом направлении
- 8—Здесь можно безопасно совершить посадку
- 9 - необходимы медикаменты
- 10 —Нет
- 11 - нужен врач

Оценочные баллы: максимально— 10 баллов;
Фактически набранные баллы за задание - 0

Задание 6. Заполните схему, вписав основные факторы, влияющие на безопасность туризма.



Оценочные баллы: максимально— 10 баллов,
Фактически набранные баллы за задание - 0

Задание 7. Опишите основные действия по оказанию первой помощи при вывихе.

1. _____

2. _____

3. _____


4. _____

Оценочные баллы: максимально— 10 баллов,

Фактически набранные баллы за задание - _____

| <i>Баллы за задания теоретического блока</i> | | | | | | | |
|--|---|---|---|---|---|---|---|
| <i>№ задания</i> | 1 | 2 | 3 | 4 | 5 | 6 | 7 |
| <i>Кол-во баллов</i> | | | | | | | |

ЗАДАНИЯ ТЕОРЕТИЧЕСКОГО ТУРА (Блок тестирования)

| № п/п | Тестовые задания | Макс. балл | Кол-во набранных баллов |
|----------------------------------|---|------------|-------------------------|
| 1 | 2 | 3 | 4 |
| Определите один правильный ответ | | | |
| 1. | <p><i>Где должны двигаться организованные группы?</i></p> <p>а) По тротуару в два ряда; б) по краю проезжей части в два ряда; в) только по направлению движения транспортных средств по правой стороне не более чем по четыре человека в ряд.</p> | 1 | 0 |
| 2. | <p><i>Остановите направление движения на 200 градусов по азимуту.</i></p> <p>а) юго-восток. б) запад. в) юг. г) юго-запад.</p> | 1 | 0 |
| 3. | <p><i>Какое созвездие используется для определение сторон горизонта ночью?</i></p> <p>а) созвездие Южный крест. б) Млечный путь. в) созвездие Москва-Кассиопея. г) созвездие Большой медведицы.</p> | 1 | 1 |
| 4. | <p><i>Вы пришли домой, поставили полный чайник на газовую плиту и, закрыв дверь на кухню, пошли смотреть телевизор. Вдруг почувствовала запах газа. На улице сумерки. Какова очередность ваших дальнейших действий:</i></p> <p>а) включить свет и посмотреть, в чем причина утечки газа, открыть окно, пойти к соседям, позвонить в диспетчерскую службу; б) выключить телевизор, перекрыть газовый кран, открыть ОКНО, плотно закрыть дверь и окно. в) зайти на кухню, перекрыть газовый кран, открыть окно, плотно закрыть дверь в кухню, пойти к соседям и позвонить в аварийную службу.</p> | 1 | 1 |
| 5. | <p style="text-align: center;"></p> <p style="text-align: center;"><i>Этот знак называется:</i></p> <p>а) Дорога с полосой для велосипедистов; б) Пешеходная и велосипедная дорожка с разделением движения; в) Пешеходная и велосипедная дорожка с совмещенным движением.</p> | 1 | 1 |

| | | | |
|----|--|---|---|
| | | | |
| 6. | <p>Группа детей отправилась в туристический поход. С одним из участников похода произошёл несчастный случай — его укусила змея. Место укуса — задняя поверхность голени в средней трети. Что нельзя делать с потерпевшим?</p> <p>а) Обработать ранку раствором антисептика, б) Наложить давящую повязку на пострадавшую часть конечности, в) Наложить кровоостанавливающий жгут выше места укуса, г) Попросить пострадавшего после оказания первой помощи самостоятельно продолжить движение.</p> | 1 | 0 |
| 7. | <p>Какое из перечисленных средств относится к предохранительному средству спасения на воде?</p> <p>а) шары Сулова; б) конец Александрова; в) спасательный жилет; г) любое из перечисленных средств.</p> | 1 | 1 |
| 8. | <p>Вы находитесь на льду водоёма. Что вы будете делать, если под Вами начал потрескивать лёд?</p> <p>а) постараюсь как можно быстрее добраться до любого ближайшего берега; б) осторожно поверну обратно и скользящими шагами вернусь к берегу по пройденному пути; в) медленно и осторожно поверну обратно, и быстро покину место, по пройденному пути; г) постараюсь скользящими шагами добраться до любого ближайшего берега.</p> | 1 | 0 |
| 9 | <p>Вы долго гуляли на улице зимой и катались на горке с друзьями. Очень сильно замерзли руки, кожа побледнела, появились признаки обморожения. Выберите действие, которое нельзя делать при обморожении:</p> <p>а) Обогреть кисти рук у открытого огня б) Укрыться теплым пледом; в) Выпить горячего чая; г) Сделать теплую ванночку для рук.</p> | 1 | 1 |
| 10 | <p>Сколько часов необходимо спать школьнику 10-12 лет?</p> <p>а) 6-8 часов; б) 8-10 часов; в) 10-12 часов.</p> | 1 | 1 |

| | | | |
|----|--|---|---|
| 11 | <p>Вам необходимо перебраться вброд через реку с быстрым течением. Каким из способов вы будете переводить ее в выбранном вами месте?</p> <p>а) вниз по течению; б) перпендикулярно течению реки; <input checked="" type="radio"/> в) против течения; г) под углом 40 градусов к нему.</p> | 1 | 0 |
| 12 | <p>В каком возрасте движение велосипедистов должно осуществляться только по тротуарам, пешеходным, велосипедным и велопешеходным дорожкам, а также в пределах пешеходных зон?</p> <p>а) От 3 до 6 лет; <input checked="" type="radio"/> б) От 7 до 14 лет; в) От 14 до 16 лет</p> | 1 | 1 |
| 13 | <p>Вы находитесь в ясу и зовете на помощь товарища. Как вы должны кричать или давать знать о себе, чтобы вас услышали с большого расстояния?</p> <p>а) громко, но низким тоном; б) пронзительно; <input checked="" type="radio"/> в) свистеть с помощью пальцев.</p> | 1 | 0 |
| 14 | <p>Какое количество суставов необходимо иммобилизовать при переломе бедра или плеча?</p> <p><input checked="" type="radio"/> а) два б) три в) четыре г) количество не имеет значения</p> | 1 | 0 |
| 15 | <p>В каком случае пешеход может двигаться по проезжей части вместо тротуара или пешеходной дорожке?</p> <p>а) всегда, когда захочет; <input checked="" type="radio"/> б) при переноске громоздких предметов; в) при ведении детской коляски.</p> | 1 | 1 |
| 16 | <p>Максимальный пик работоспособности приходится на период времени:</p> <p>а) с 12:00 до 14:00; б) с 07:00 до 10:00; в) с 21:00 до 00:00; <input checked="" type="radio"/> г) весь день</p> | 1 | 0 |
| 17 | <p>При приготовлении пищи, на сковороде загорелся жир. Ваш действия?</p> <p>а) Зальете огонь водой.; б) Накинете на сковороду влажную тряпку.; <input checked="" type="radio"/> в) Выключите газ. Сковороду плотно накроете крышкой.</p> | 1 | 1 |

| | | | |
|----------------------------------|--|---|--|
| 18 | <p>Ученик, пытаясь поправить здоровье и память перед экзаменами, съел целую коробку поливитаминов и попал в больницу. Доктор объяснил пострадавшему что это нарушение называется...</p> <p>а) гипервитаминоз б) гиповитаминоз в) авитаминоз г) бери-бери</p> | 1 | |
| 19 | <p>Как себя обезопасить, если тебя в лесу застала гроза?</p> <p>а) спрячусь под большое дерево б) спрячусь в кусты; в) выйду на поляну, где нет деревьев.</p> | 1 | |
| 20 | <p>Какую пищу необходимо чаще необходимо чаще употреблять, чтобы укрепить зубы?</p> <p>а) продукты содержащие животные и растительные жиры; б) мясные продукты; в) рыбу и морепродукты; г) яблоки, морковь, орехи, семечки подсолнуха, оливки, сыр.</p> | 1 | |
| 21 | <p>Какой из перечисленных способов обеззараживания воды является наиболее надежным? Выберите ответ:</p> <p>а) пропускание воды через активированный уголь; б) обеззараживание с помощью марганцовки; в) кипячение.</p> | 1 | |
| Определите все правильные ответы | | | |
| 22 | <p>Недостаток йода в организме можно восполнить, употребляя:</p> <p>а) хлебобулочные изделия; б) йодированную соль; в) молочные продукты; г) морепродукты.</p> | 2 | |
| 23 | <p>Мы ниже перечисленных объектом выберите те, которые могут являться линейными ориентирами:</p> <p>а) автомагистраль; б) горная река; в) движущийся автотранспорт и сельскохозяйственная техника; г) высоковольтная линия электропередач.</p> | 2 | |
| 24 | <p>От вилоченной электрогирлянды произошло возгорание искусственной елки высокой 1 м 80 см в комнате жилого дома. Выберите необходимые действия.</p> <p>а) Немедленно облить елку большим количеством воды; б) Обесточить электрогирлянду; в) Повалить елку на пол; г) Залить горящую елку большим количеством воды; д) Набросить на горящую елку плотную материю (плед с дивана, одеяло).</p> | 3 | |

| | | | |
|-------------------|--|----|--|
| | | | |
| 25 | <p>Какие из представленных ниже правил оказания первой помощи при ранении глаз являются верными?</p> <p>а) промыть повреждённый глаз водой; б) нельзя промывать повреждённый глаз водой; в) наложить стерильную повязку на повреждённый глаз; г) наложить стерильную повязку на два глаза; д) закапать в повреждённый глаз антибактериальные капли.</p> | 2 | |
| Количество баллов | | 30 | |

*Оценочные баллы: максимально — 30 баллов,
фактически набранные баллы за Блок тестирования _____*

Общее количество баллов – 100.